



نام درس: ریاضی

کلاس: سوم

نام و نام خانوادگی:

تاریخ:

نام آموزگار:

۱- جاهای خالی را با کلمات مناسب کامل کنید.

۳ کیلوگرم و ۱۳۰ گرم یعنی ----- گرم

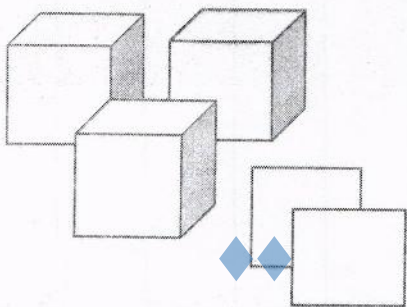
۱۰۶۸ متر یعنی ----- کیلومتر و ----- متر

۸۰ میلی متر یعنی ----- سانتی متر

۷ متر و ۶۵ سانتی متر یعنی ----- سانتی متر

۲- با توجه به شکل رو به رو، جاهای خالی را کامل کنید.

یکان دهگان صدگان هزارگان



به عدد: -----

به حروف: -----

جزوه سیپی

۳- برای شکل های زیر کسر بنویسید.


(الف)



۴- کسرهای زیر را روی محور نشان دهید.

(الف) واحد بعد از عدد ۲

(ب) واحد مانده به عدد ۴



۵- مریم یک سوم پول خود و زهرا دو سوم پول خود را صدقه دادند. با رسم شکل نشان دهید کدام یک پول بیش تری صدقه داده است؟

۶- گلناز برای جشن یلدا، ۵ بسته شکلات که در هر بسته ۴ شکلات بود، به خانه ی مادر بزرگ برد. با کشیدن شکل و کشیدن محور و با استفاده از روش محور، حساب کنید در این ۵ بسته روی هم، چند شکلات قرار دارد؟



۷- امروز جمعه، دومیین روز از ماه دی است. تا پایان این ماه جمعه ها چه روز هایی از ماه هستند؟ (با روش الگویابی حل شود.)

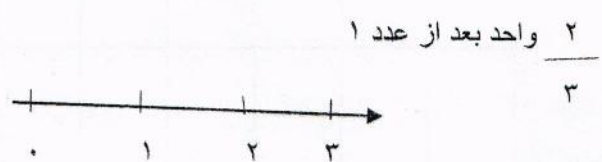

۸- به چند حالت می توان با سکه های ۵۰ ریالی و ۱۰۰ ریالی، ۲۰۰۰ ریال ساخت؟

۹- کسر شکل های زیر را بنویسید.

----- واحد کامل و ----- واحد.



۱۰- کسرهای زیر را روی محور نشان دهید.



۱۱- نازنین دو سوم پیتزا و نوید دو چهارم پیتزا رو خورده اند. با رسم شکل نشان دهید کدام یک پیتزای بیش تری خورده اند.



۱۲- خیاطی به ۴ عدد مانته می خواد دکمه بدوزد. اگر او به هر مانته ۵ دکمه بدوزد با کشیدن شکل ساده و نوشتن عبارت ضرب، تعداد کل دکمه ها را پیدا کنید.



نام درس: د

کلاس:

نام و نام خانوادگی:

تاریخ:

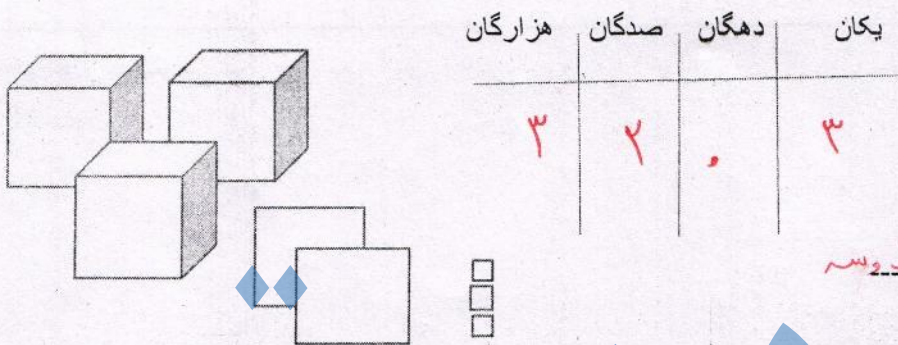
نام آموزگار:

۱- جاهای خالی را با کلمات مناسب کامل کنید.


۳ کیلوگرم و ۱۳۰ گرم یعنی 3130 گرم
۸۰ میلی متر یعنی 8 سانتی متر

۱۰۶۸ متر یعنی 1 کیلومتر و 68 متر
۷ متر و ۶۵ سانتی متر یعنی 765 سانتی متر


۲- با توجه به شکل رو به رو، جاهای خالی را کامل کنید.



۳- برای شکل های زیر کسر بنویسید.



۴- کسرهای زیر را روی محور نشان دهید.



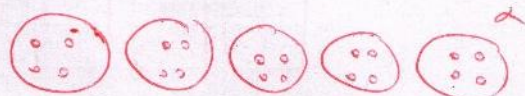
(الف) $\frac{1}{4}$ واحد بعد از عدد ۲

(ب) $\frac{1}{2}$ واحد مانده به عدد ۴

۵- مریم یک سوم پول خود و زهرا دو سوم پول خود را صدقه دادند. با رسم شکل نشان دهید کدام یک پول بیش تری صدقه داده است؟ *زهرا*



۶- گلناز برای جشن یلدا، ۵ بسته شکلات که در هر بسته ۴ شکلات بود، به خانه ی مادر بزرگ برد. با کشیدن شکل و کشیدن محور و با استفاده از روش محور، حساب کنید در این ۵ بسته روی هم، چند شکلات قرار دارد؟ 20



$5 \times 4 = 20$



نام درس: ریاضی

کلاس: سوم

نام و نام خانوادگی:

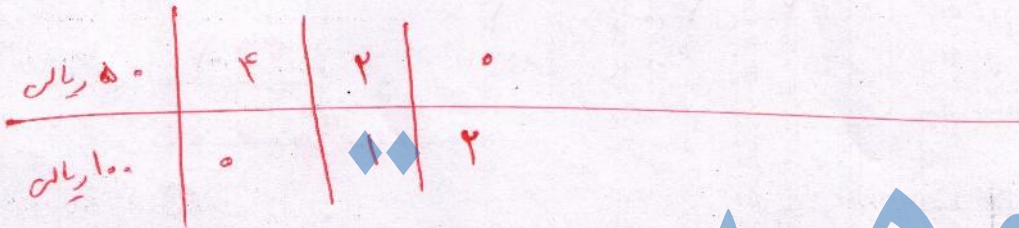
تاریخ: ۱۰ آدی ماه ۱۴۰۱

نام آموزگار: ساناز برومند


۷- امروز جمعه، دومین روز از ماه دی است. تا پایان این ماه جمعه ها چه روز هایی از ماه هستند؟ (با روش الگویابی حل شود.)



۸- به چند حالت می توان با سکه های ۵۰ ریالی و ۱۰۰ ریالی ۲۰۰۰ ریال ساخت؟ ۳ حالت

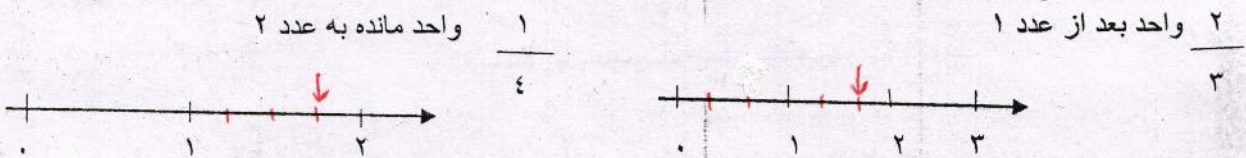


۹- کسر شکل های زیر را بنویسید.

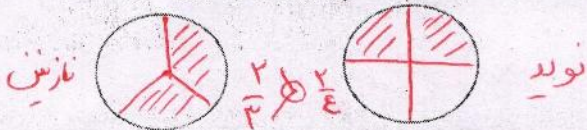


۲ واحد کامل و ۳ واحد

۱۰- کسرهای زیر را روی محور نشان دهید.

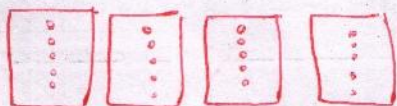


۱۱- نازنین دو سوم پیتزا و نوید دو چهارم پیتزا رو خورده اند. با رسم شکل نشان دهید کدام یک پیتزای بیش تری خورده اند.



نازنین پیتزای بیش تری خورده است.

۱۲- خیاطی به ۴ عدد مانته می خواد دکمه بدوزد. اگر او به هر مانته ۵ دکمه بدوزد با کشیدن شکل ساده و نوشتن عبارت ضرب، تعداد کل دکمه ها را پیدا کنید. ۲۰ دکمه باید بدوزد.



$4 \times 5 = 20$